

**ОЛИМПИАДА ШКОЛЬНИКОВ ЛЕНИНГРАДСКОЙ ОБЛАСТИ ПО
КРАЕВЕДЕНИЮ
МУНИЦИПАЛЬНЫЙ ЭТАП
2025 – 2026 учебный год
11 КЛАСС**

Уважаемые участник!

Перед Вами 14 заданий I этапа муниципального этапа олимпиады школьников по краеведению. Время для их выполнения составляет 1 астрономический час. Задания считаются выполненными, если Вы вовремя сдали их членам жюри. Внимательно читайте текст заданий. Содержание ответа вписывайте в отведённые поля, записи ведите чётко и разборчиво. При выполнении заданий можно пользоваться черновиком. Записи в черновике не учитываются при оценивании работы. Баллы, полученные Вами за выполненные задания, суммируются.

Максимально возможное количество баллов за тестовую часть - 45

Второй этап – защита исследовательских проектов.

Максимально возможное количество баллов за защиту - 55

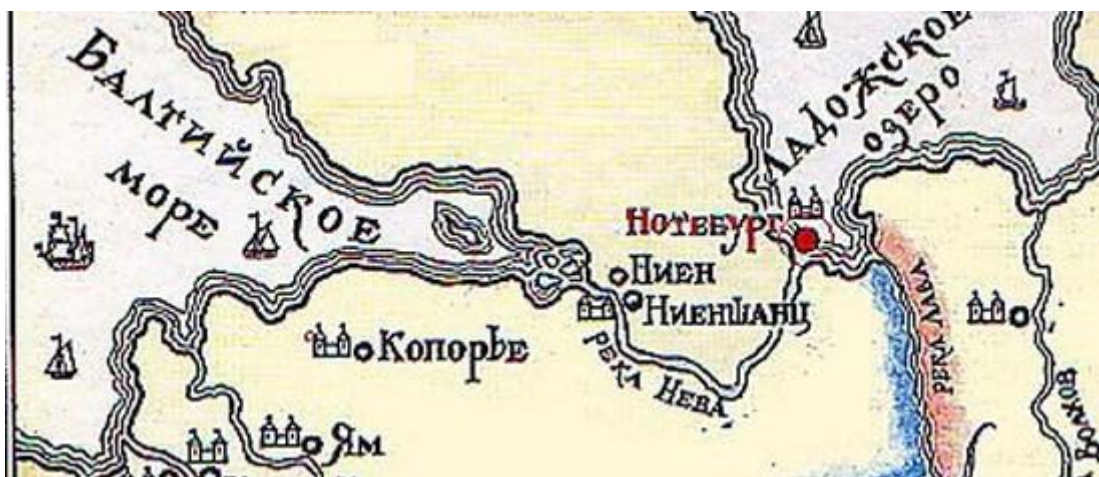
Общее количество баллов – 100

Желаем удачи!

Первый этап

МАКСИМАЛЬНЫЙ БАЛЛ – 45.

1. В какой последовательности Пётр I брал крепости, освобождая Невские земли от шведов в начале XVIII века?



Ответ:

1.1. _____

1.2. _____

За каждый правильный ответ – 2 балла.

МАКСИМАЛЬНЫЙ БАЛЛ – 4.

2. Какие города-герои отличились в Великую Отечественную войну в Ленинградской области из данного перечня? Выбери 4 города.

2.1. Луга

2.2. Гатчина

2.3. Приозерск

2.4. Тихвин

2.5. Выборг

2.6. Шлиссельбург

Ответ: _____

За каждый правильный ответ – 1 балл.

МАКСИМАЛЬНЫЙ БАЛЛ – 4

3. О какой крепости было сказано Петром I «Зело крепок был сей орех!»? Смотри карту задания №1.

3.1. Выборг.

3.2. Крепость Нотебург.

3.3. Ниеншанц.

Ответ: _____

МАКСИМАЛЬНЫЙ БАЛЛ – 3.

4. Почему климат Ленинградской области в её западной части, как правило, теплее зимой и холоднее летом, чем климат на её восточной части?

4.1. На востоке земля более возвышенная.

4.2. На западе соседствует море.

Ответ: _____

МАКСИМАЛЬНЫЙ БАЛЛ – 2.



5. Какой народ более всех и

дольше всех угрожал жителям Ленинградской области на протяжении её многовековой истории?

5.1. Финны

5.2. Немцы.

5.3. Шведы.

5.4. Поляки.

5.5. Литовцы.

Ответ: _____

МАКСИМАЛЬНЫЙ БАЛЛ – 2.

6. Откуда в строящийся Петербург приходил лес в больших объёмах?

- 6.1. Карельский перешеек.
- 6.2. Посвирье (район реки Свирь)
- 6.3. Берега Финского залива.

Ответ: _____



МАКСИМАЛЬНЫЙ БАЛЛ– 2.

7. Где в Ленинградской области в войну на берегу реки погибло больше всего солдат из расчёта количества человек на квадратный метр?

- 7.1. Синявинские высоты.
- 7.2. Лебяжье.
- 7.3. Невский пятачок.

Ответ: _____

МАКСИМАЛЬНЫЙ БАЛЛ – 3.

8. Почему Дорога жизни была сделана по извилистой траектории, а не по прямой линии?

- 8.1. Условия местности.
- 8.2. Военная целесообразность.

Ответ:

МАКСИМАЛЬНЫЙ БАЛЛ – 3.

9. В каком месте Ленинградской области находятся многочисленные естественные пещеры древнего происхождения?

- 9.1. Изборск.
- 9.2. Саблино.
- 9.3. Матокса.

Ответ: _____

МАКСИМАЛЬНЫЙ БАЛЛ – 2.

10. В каком месте преимущественно добывали камень для строительства Санкт-Петербурга?

- 10.1. Карельский перешеек.
 10.2. Прионежье (район Онежского озера).
 10.3. Новгород.

Ответ:

МАКСИМАЛЬНЫЙ БАЛЛ – 3.

11. Установите верность или ложность утверждений («ДА» или «НЕТ») ответы в таблицу:

- 11.1. Самый большой город Ленинградской области - Выборг
 11.2. День рождения Ленинградской области – 1 августа 1927 года
 11.3. Кинофестиваль «Литература и кино» проходит в городе Выборг
 11.4. Звание «Почетный гражданин Ленинградской области» учреждено в 2001 году
 11.5. Защитники Шлиссельбургской крепости выдерживали вражескую осаду 500 дней.

Ответ:

11.1.	1.2.	11.3.	11.4.	11.5.

**За каждый правильный ответ – 1 балл
 МАКСИМАЛЬНЫЙ БАЛЛ – 5**

12. Установите соответствие между владельцами усадеб и их названиями. Ответ занесите в таблицу.

- | | |
|---------------------|-------------|
| 12.1. А.Н. Оленин | А) Суйда |
| 12.2. И.Е. Репин | Б) Приютино |
| 12.3. П. Николаи | В) Пенаты |
| 12.4. А.П. Ганнибал | Г) Монрепо |

Ответ:


12.1.	12.2.	12.3	12.4.

**За каждый правильный ответ – 1 балл
 МАКСИМАЛЬНЫЙ БАЛЛ – 4**

13. Напишите названия памятников архитектуры, представленных на фотографиях. Ответы занесите в таблицу.



13.1.



13.2.



13.3.







13.4.

Ответ:

13.1.	13.2.	13.3.	13.4.

**За каждый правильный ответ – 1 балл
МАКСИМАЛЬНЫЙ БАЛЛ – 4**

14. Гербы каких городов Ленинградской области представлены на иллюстрациях? Ответ занесите в таблицу.

	
14.1.	14.2.
	
14.3.	14.4.

Ответ:

14.1.	14.2.	14.3.	14.4.

**За каждый правильный ответ – 1 балл
МАКСИМАЛЬНЫЙ БАЛЛ – 4**